

Défi mathématiques
CP n°2

Département
du
Loiret

Nom de l'école :

Nom de l'enseignant(e) :

Prénoms des élèves du groupe :

JOKER :

Numération

Géométrie

Logique

1

Le compte est bon

6 étiquettes nombres sont proposées, tu dois trouver
en utilisant celles dont tu as besoin.

47

Chaque étiquette nombre ne peut être utilisée **qu'une seule fois**.

5
points

Tu **dois** utiliser les opérations suivantes **+** et **x**

Étiquettes/nombres

20

3

10

2

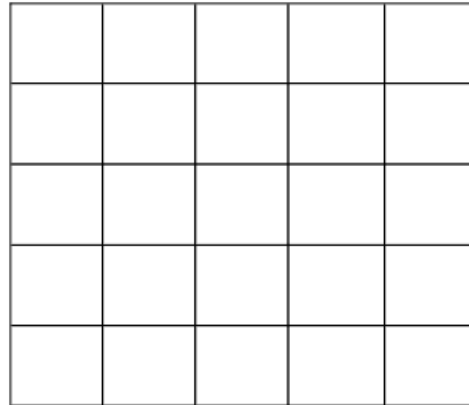

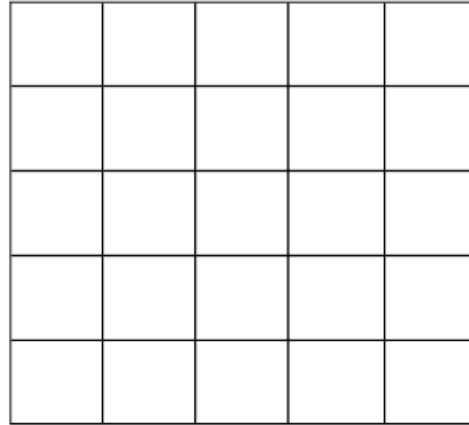
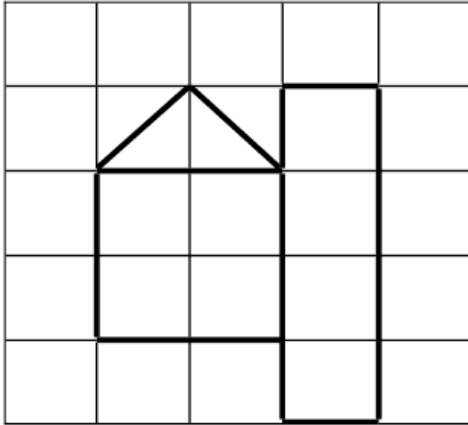
5

4

Réponse :

1 Reproduis les figures.


6 points



Sudoku

1 Complète la grille.

On doit retrouver une pastille de chaque forme sur chaque ligne et chaque colonne.



8
points